



















Name:

Date:

Counting & Skip Counting : Between Numbers

Write the numbers which comes in between.

| | |
|--|--|
|  14 <input type="text"/> 16 |  18 <input type="text"/> 20 |
|  20 <input type="text"/> 22 |  20 <input type="text"/> 22 |
|  29 <input type="text"/> 31 |  21 <input type="text"/> 23 |
|  41 <input type="text"/> 43 |  16 <input type="text"/> 18 |
|  45 <input type="text"/> 47 |  25 <input type="text"/> 27 |
|  12 <input type="text"/> 14 |  12 <input type="text"/> 14 |
|  16 <input type="text"/> 18 |  37 <input type="text"/> 39 |
|  21 <input type="text"/> 23 |  15 <input type="text"/> 17 |
|  37 <input type="text"/> 39 |  27 <input type="text"/> 29 |